

**Муниципальное бюджетное общеобразовательное учреждение
для обучающихся с ограниченными возможностями здоровья
основная общеобразовательная школа № 10**

Приложение № 2 к АООП ООО

**ФОНД ОЦЕНОЧНЫХ СРЕДСТВ
по текущей аттестации
по учебному предмету «География»
7 класс**

г. Чебаркуль

Тема: «Зона арктических пустынь»

Вариант 1.

1. Назовите самую северную часть зоны арктических пустынь России

- А. Северная Земля
- Б. Земля Франца-Иосифа
- В. Остров Врангеля

2. Район Северного Ледовитого океана, его берега и острова называют

- А. Арктикой
- Б. Антарктикой
- В. Северным полюсом

3. Исключи неправильное выражение:

- А. полярный день
- Б. полярная ночь
- В. полярный вечер

4. Какое животное не может жить в зоне арктических пустынь:

- А. морж
- Б. белка
- В. белуха

5. Рыболовные суда:

- А. сейнер
- Б. траулер
- В. лайнер

6. Северный морской путь – это путь:

- А. к Тихому океану
- Б. к Индийскому
- В. к Атлантическому

7. Крупные портовые города зоны арктических пустынь:

- А. Диксон
- Б. Певек
- В. Владивосток

8. На каком острове находится заповедник:

- А. Врангеля
- Б. Новая Земля
- В. Северная Земля

Тема: «Зона арктических пустынь»

Вариант 2.

Фамилия, имя

1. Какое животное не может жить в зоне арктических пустынь:

- А. морж
- Б. белка
- В. белуха

2. Район Северного Ледовитого океана, его берега и острова называют

- А. Арктикой
- Б. Антарктикой
- В. Айсбергом

3. Какое судно не является рыболовным:

- А. сейнер
- Б. траулер
- В. лайнер

4. На каком острове находится заповедник:

- А. Врангеля
- Б. Новая Земля
- В. Северная Земля

5. Исключи неправильное выражение:

- А. полярный день
- Б. полярная ночь
- В. полярный вечер

6. Какой город-порт не относится к зоне тундры:

- А. Диксон
- Б. Певек
- В. Владивосток

Тема: «Зона арктических пустынь»

Вариант 3.

Фамилия, имя

1. Как называют это явление



2. Как называются эти животные:



4. В зоне арктических пустынь бывает полярный ----- и полярная -----



Тема: «Зона тундры»

Вариант 1.

1. Зона тундры расположена:

- А. севернее зоны арктических пустынь
- Б. южнее зоны арктических пустынь
- В. западнее зоны арктических пустынь

2. Какое слово лишнее? Подчеркни его:

Ямал, Таймыр, Кольский, Врангеля.

Карское, Печора, Белое, Чукотское.

4. Подпиши условные обозначения полезных ископаемых:

- А.  _____
- Б.  _____
- В.  _____

5. «Олений мох»:

- А. осока
- Б. ягель
- В. лютик

6. Назовите карликовое дерево тундры:

- А. береза
- Б. липа
- В. дуб

7. Подчеркни слова, подходящие для описания северного оленя:

Неуклюжий, быстрый, косолапый, мощные рога, слабый, выносливый, охотится на зайцев, крылья, питается ягелем, широкие копыта.

8. Эвенки, коряки, ненцы- это:

- А. южные народы
- Б. народы севера
- В. жители гор

9. Жилище народов севера:

- А. чум
- Б. юрта
- В. палатка

10. Укажите полезные ископаемые, которые добываются около города Норильска

- А. золото
- Б. никель
- В. олово

11. Назови одним словом:

Кандалакшский, Таймырский, Арктический -----

Тема: «Зона тундры»

Вариант 2.

Фамилия, имя _____

1. «Олений мох»:

- А. осока
- Б. ягель
- В. лютик

2. Назовите карликовое дерево тундры:

- А. береза
- Б. липа
- В. дуб

3. Домашнее животное зоны тундры:

- А. корова
- Б. олень
- В. лошадь


4. Жилище народов севера:


- А. чум
- Б. юрта
- В. палатка


5. Город зоны тундры:

- А. Мурманск
- Б. Рязань
- В. Москва

4. Подпиши условные обозначения полезных ископаемых:

А.  -----

Б.  -----

В.  -----

6. Эвенки, коряки, ненцы- это:

А. южные народы

Б. народы севера

В. жители гор

Тема: «Зона тундры»

Вариант 3.

1. Назовите карликовое дерево тундры:

А. береза

Б. липа

В. дуб

2. Домашнее животное зоны тундры:

А. корова

Б. олень

В. лошадь

3. Подпиши профессию



4. Подпиши название животных



Тема: «Лесная зона»

Вариант 1.

Фамилия, имя

1. Лес, где растут хвойные деревья:

- А. тайга
- Б. смешанный лес
- В. лиственный лес

2. Волк, рысь, тигр относятся к:

- А. травоядным
- Б. хищным
- В. всеядным

3. Какой город не относится к городам Центральной России:

- А. Ярославль
- Б. Рязань
- В. Санкт -Петербург

4.Какая сельскохозяйственная культура является основной в Северо-Западном экономическом районе:

- А. пшеница
- Б. кукуруза
- В. лён

5. Территория от Уральских гор до реки Енисей:

- А. Западная Сибирь
- Б. Дальний Восток
- В. Восточная Сибирь

6. Богатое месторождение алмазов:

- А. Калининград
- Б. Якутия
- В. Курск

7. Основная отрасль промышленности этого района – рыбная:

- А. Дальний Восток
- Б. Восточная Сибирь
- В. Западная Сибирь

8. Заповедник Челябинской области:

- А. Баргузинский
- Б. Окский

В. Ильменский

Тема: «Лесная зона»

Вариант 2.

Фамилия, имя

1. Лес, где растут хвойные деревья:

- А. тайга
- Б. смешанный лес
- В. лиственный лес

2. Волк, рысь, тигр относятся к:

- А. травоядным
- Б. хищным
- В. всеядным

3. Богатое месторождение алмазов:

- А. Калининград
- Б. Якутия
- В. Курск

4. Заповедник Рязанской области:

- А. Баргузинский
- Б. Окский
- В. Ильменский

5. Богатое месторождение алмазов:

- А. Калининград
- Б. Якутия
- В. Курск

6. Какой город не относится к городам Центральной России:

- А. Ярославль
- Б. Рязань
- В. Санкт -Петербург

Тема: «Лесная зона»



Вариант 3.

Фамилия, имя

1. Подпиши лиственное и хвойное дерево



2. Подпиши, в каких города расположены эти памятники.



3. Заповедник Челябинской области:

- А. Баргузинский
- Б. Окский
- В. Ильменский

4. Волк, рысь, тигр относятся к:

- А. травоядным
- Б. хищным

В. всеядным

Тема: «Зона степей»

Вариант 1.

Фамилия, имя

1. Определите расположение зоны степей в России

- а. к югу от лесов и полупустынь
- б. к югу от лесов и к северу от полупустынь
- в. к северу от лесов и полупустынь

2. Укажите главную причину безлесья степей

- а. недостаточное увлажнений
- б. малое количество осадков
- в. теплое продолжительное лето

3. Определите естественную растительность, наиболее характерную для зоны степей

- а. верблюжья колючка и ковыль
- б. ковыль и типчак
- в. типчак и полынь

4. Укажите природную зону России, наиболее измененную хозяйственной деятельностью людей

- а. степь
- б. тундра
- в. тайга

5. Назовите города степной зоны

- а. Самара, Саратов, Волгоград
- б. Астрахань, Элиста
- в. Новгород, Псков, Калининград

6. Степи не бывают

- а. чернозёмные
- б. сухие
- в. лесные

7. Какое животное не живёт в зоне степей

- а. суслик
- б. сурок
- в. медведь

8. Птица, занесённая в Красную книгу

- а. дрофа

- б. куропатка
- в. жаворонок

Тема: «Зона степей»

Вариант 2.

Фамилия, имя

1. Определите естественную растительность, наиболее характерную для зоны степей

- а. верблюжья колючка и ковыль
- б. ковыль и типчак
- в. типчак и полынь

2. Какое животное не живёт в зоне степей

- а. суслик
- б. сурок
- в. медведь

3. Птица, занесённая в Красную книгу

- а. дрофа
- б. куропатка
- в. жаворонок

4. Степи не бывают

- а. чернозёмные
- б. сухие
- в. лесные

5. Назовите города степной зоны

- а. Самара, Саратов, Волгоград
- б. Астрахань, Элиста
- в. Новгород, Псков, Калининград

6. Укажите главную причину безлесья степей

- а. недостаточное увлажнений
- б. малое количество осадков
- в. теплое продолжительное лето

Тема: «Зона степей»



Вариант 3.

Фамилия, имя

1. Какое животное не живёт в зоне степей

- А. суслик
- Б. сурок
- В. медведь

2. Как называются эти растения:



3. Назовите города степной зоны

- А. Самара, Саратов, Волгоград
- Б. Астрахань, Элиста
- В. Новгород, Псков, Калининград

4. Степи не бывают

- А. чернозёмные
- Б. сухие
- В. лесные

Тема: «Зона полупустынь и пустынь»

Вариант 1.

Фамилия, имя

- 1. Вставьте пропущенное слово:**
Обширное пространство земли с бедной растительностью, вызванной безводьем – это
 - а. Пустыня
 - б. Степь
 - в. Тундра

- 2. Назовите полезные ископаемые зоны полупустынь и пустынь России**
 - а. Руды цветных металлов, золото, алмазы
 - б. Нефть, природный газ, поваренная соль
 - в. Каменный уголь, медные руды, торф

- 3. Назовите самое крупное животное пустыни**
 - а. Сайгак
 - б. Слон
 - в. Верблюд

- 4. Какое растение не растёт в зоне полупустынь и пустынь**
 - а. Саксаул
 - б. Верблюжья колючка
 - в. Берёза

- 5. Озеро Баскунчак называют**
 - а. «Всероссийской солонкой»
 - б. «Всероссийской житницей»
 - в. «Всероссийской здравницей»

- 6. Через зону полупустынь и пустынь протекает**
 - а. Волга с притоком Ахтубой
 - б. Волга с притоком Камой
 - в. Волга с притоком Окой

- 7. Участок полупустынь и пустынь с разнообразной растительностью**
 - а. остров
 - б. оазис
 - в. барханы

Тема: «Зона полупустынь и пустынь»

Вариант 2.

Фамилия, имя

1. Вставьте пропущенное слово:

Обширное пространство земли с бедной растительностью, вызванной безводьем – это

- а. Пустыня
- б. Степь
- в. Тундра

2. Назовите самое крупное животное пустыни

- а. Сайгак
- б. Слон
- в. Верблюды

3. Какое растение не растёт в зоне полупустынь и пустынь

- а. Саксаул
- б. Верблюжья колючка
- в. Берёза

4. Озеро Баскунчак называют

- а. «Всероссийской солонкой»
- б. «Всероссийской житницей»
- в. «Всероссийской здравницей»

5. Участок полупустынь и пустынь с разнообразной растительностью

- а. Остров
- б. Оазис
- в. Барханы

Тема: «Зона полупустынь и пустынь»

Вариант 3.

Фамилия, имя

1. Назовите самое крупное животное пустыни

А. Сайгак

Б. Слон

В. Верблюд

2. Подпиши растения



3. Крупный город зоны полупустынь и пустынь

А. Астрахань

Б. Воронеж

В. Краснодар

4. Какое животное не живёт в пустыне?



Тема: «Зона субтропиков», «Высокая поясность в горах»

Вариант 1.

Фамилия, имя

- 1. Назовите самый крупный российский порт на Черном море**
 - а. Новороссийск
 - б. Туапсе
 - в. Одесса

- 2. Назовите самую высокую вершину Кавказа**
 - а. Гора Дыхтау
 - б. Гора Казбек
 - в. Гора Эльбрус

- 3. Укажите занятие населения зоны субтропиков**
 - а. Шелководство
 - б. Садоводство
 - в. Оленеводство

- 4. Горы Восточной Сибири**
 - а. Урал
 - б. Саяны
 - в. Алтай

- 5. Назовите одним словом мандарины, апельсины, лимоны**
 - а. цитрусовые
 - б. ягоды
 - в. бахчевые

- 6. Жилище горцев**
 - а. юрта
 - б. сакля
 - в. кибитка

- 7. Какие горы являются границей между Европой и Азией**
 - а. Уральские
 - б. Алтай
 - в. Саяны

- 8. Самые высокие горы России**
 - а. Уральские
 - б. Кавказские
 - в. Саяны

Тема: «Зона субтропиков», «Высокая поясность в горах»

Вариант 2.

Фамилия, имя

1. Назовите самый крупный российский порт на Черном море

а. Новороссийск

б. Туапсе

в. Одесса

1. Назовите самую высокую вершину Кавказа

а. Гора Дыхтау

б. Гора Казбек

в. Гора Эльбрус

2. Укажите занятие населения зоны субтропиков

а. Шелководство

б. Садоводство

в. Оленеводство

3. Горы Восточной Сибири

а. Урал

б. Саяны

в. Алтай

4. Назовите одним словом мандарины, апельсины, лимоны

а. цитрусовые

б. ягоды

в. бахчевые

5. Жилище горцев

а. юрта

б. сакля

в. кибитка

Тема: «Зона субтропиков», «Высокая поясность в горах»

Вариант 3.

Фамилия, имя

1. Назовите одним словом мандарины, апельсины, лимоны
 - а. цитрусовые
 - б. ягоды
 - в. бахчевые
2. Жилище горцев
 - а. юрта
 - б. сакля
 - в. кибитка
3. В какой природной зоне живут эти животные.



МБОУ ООШ № 10
г. Чебаркуль